



### Aufgabe 1

1. Der Bus fährt mittags ab:



..... : .....

2. Der Bus fährt mittags ab:



..... : .....

3. Der Bus fährt mittags ab:



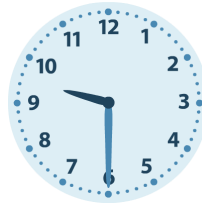
..... : .....

4. Der Bus fährt mittags ab:



..... : .....

5. Der Bus fährt mittags ab:



..... : .....

6. Der Bus fährt mittags ab:



..... : .....

7. Der Bus fährt mittags ab:



..... : .....



### Aufgabe 1

1. Der Bus fährt mittags ab:



2 : 10

2. Der Bus fährt mittags ab:



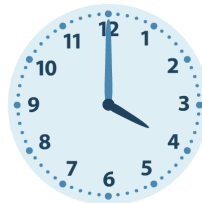
15 : 45

3. Der Bus fährt mittags ab:



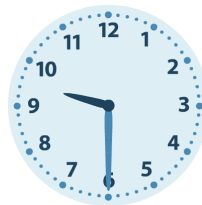
22 : 20

4. Der Bus fährt mittags ab:




4 : 00

5. Der Bus fährt mittags ab:



9 : 30

6. Der Bus fährt mittags ab:



23 : 00

7. Der Bus fährt mittags ab:



16 : 20