
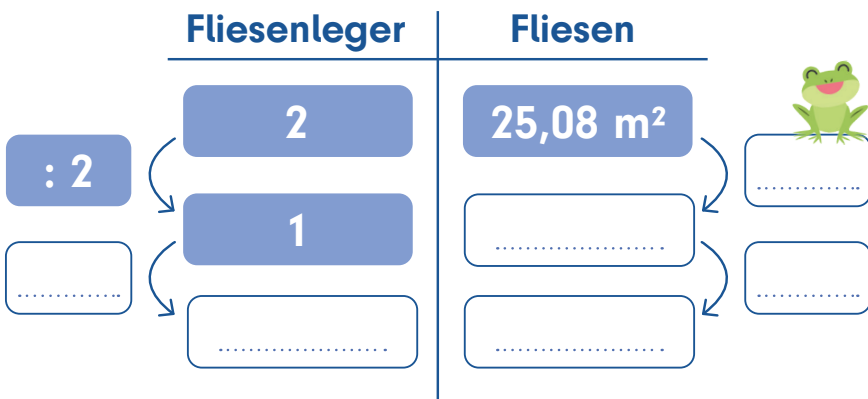




Je mehr, desto mehr


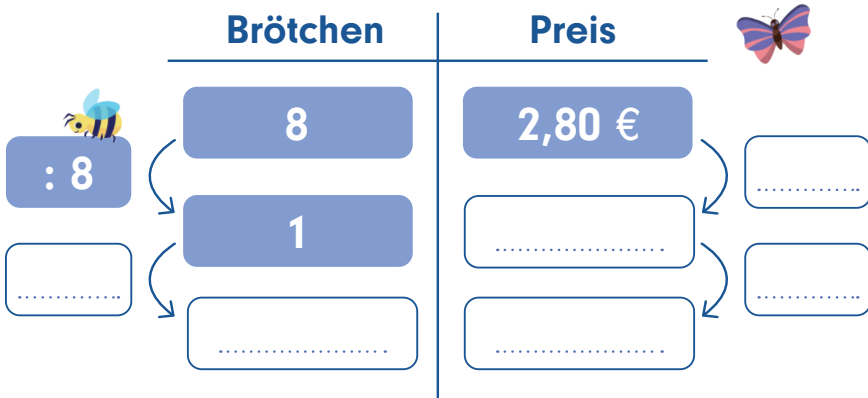
Dreisatz

- 1 2 Fliesenleger legen 25,08 m² Fliesen an einem Tag.
Wie viele Quadratmeter Fliesen könnten 7 Fliesenleger an einem Tag legen?



Antwort:

- 2 Herr Rainer kauft jeden Sonntag 8 frische Brötchen beim Bäcker für 2,80 €. Nächsten Sonntag bekommt er Besuch und benötigt 14 Brötchen. Wie viel muss er bezahlen?



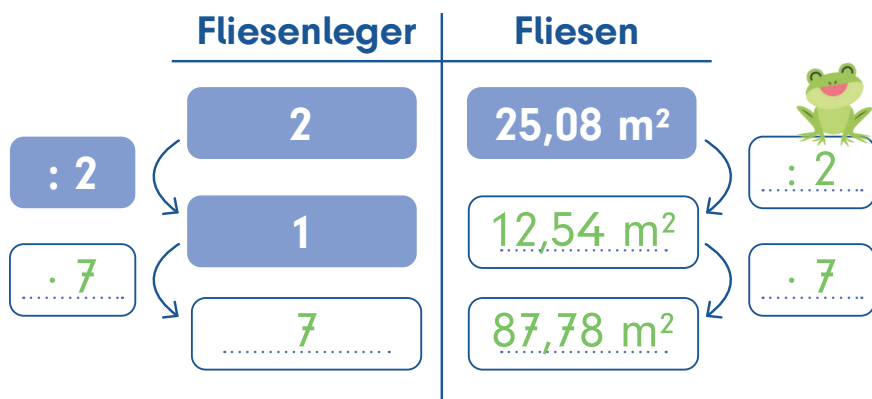
Antwort:



Lösungen Je mehr, desto mehr

Dreisatz

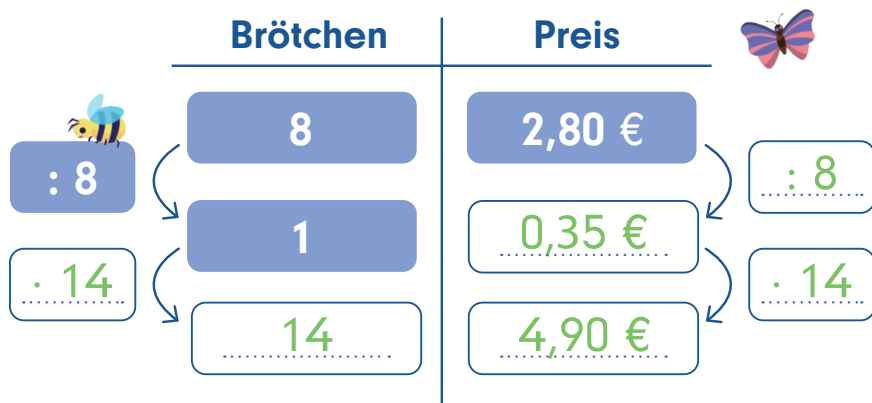
- 1 2 Fliesenleger legen 25,08 m² Fliesen an einem Tag.
Wie viele Quadratmeter Fliesen könnten 7 Fliesenleger an einem Tag legen?



2	5	0	8	:	2	=	1	2	,	5	4
0	5										
	1	0									
		0	8								
			0	Rest							
1	2	,	5	4	·	7					
8	7	,	7	8							

Antwort: 7 Fliesenleger können 87,78 m² Fliesen verlegen.

- 2 Herr Rainer kauft jeden Sonntag 8 frische Brötchen beim Bäcker für 2,80 €. Nächsten Sonntag bekommt er Besuch und benötigt 14 Brötchen. Wie viel muss er bezahlen?



2	,	8	0	:	8	=	0	,	3	5
2	8									
	4	0								
		0	Rest							
0	,	3	5	·	1	4				
	3	5								
	1	4	0							
	4	,	9	0						

Antwort: Herr Rainer muss für 14 Brötchen 4,90 € bezahlen.