













Wie viele Perlen zählst du bis zum Pfeil?



Mengen

1. Perlen
2. Perlen
3. Perlen
4. Perlen
5. Perlen
6. Perlen
7. Perlen
8. Perlen
9. Perlen
10. Perlen



1.  9 Perlen
2.  10 Perlen
3.  8 Perlen
4.  3 Perlen
5.  6 Perlen
6.  6 Perlen
7.  6 Perlen
8.  4 Perlen
9.  7 Perlen
10.  5 Perlen