
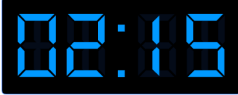







Aufgabe 1

1.  
Stunde Minuten

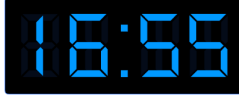

2.  
Stunde Minuten



3.  
Stunde Minuten



4.  
Stunde Minuten

5.  
Stunde Minuten


Aufgabe 2

1.  
Stunde Minuten

2.  
Stunde Minuten

3.  
Stunde Minuten

4.  
Stunde Minuten

5.  
Stunde Minuten



Aufgabe 1

1.  

3 Stunde 15 Minuten

2.  

1 Stunde 20 Minuten

3.  

3 Stunde 10 Minuten

4.  

1 Stunde 10 Minuten

5.  

3 Stunde 40 Minuten

Aufgabe 2

1.  

1 Stunde 40 Minuten

2.  

3 Stunde 25 Minuten

3.  

3 Stunde 55 Minuten

4.  

1 Stunde 45 Minuten

5.  

3 Stunde 55 Minuten